

Iš viso 20 taškų

Surinko											
1	2	3	4	5	6	7	8	9	10	11	Viso


Apvesk vieną teisingą atsakymą

- 1 t. 1. Koks yra mažiausias skaičius, kurį dalydami iš 3 gauname liekaną 1, o dalydami iš 7 gauname liekaną 5?
- A) 4 B) 12 C) 17 D) 19 E) 40

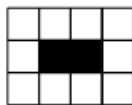
- 1 t. 2. Aštuoni vienodi ledinukai kainuoja mažiau kaip 9 eurus, o devyni tokie patys ledinukai kainuoja jau daugiau kaip 10 eurų. Kokia yra vieno tokio ledinuko kainos centais skaitmenų suma?
- A) 1 B) 2 C) 3 D) 4 E) 5

Išspręsk ir parašyk atsakymą

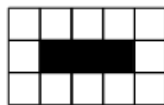
- 2 t. 3. Kelinta figūra turi 40 baltų kvadratėlių ?



1 figūra



2 figūra



3 figūra

- 2 t. 4. Kiekvieną dieną Laura, Justė ir Ieva po pamokų pasilieka mokykloje spręsti uždavinių arba mokytis anglų kalbos. Yra žinoma, kad:
- Justė ir Ieva nesimoko anglų kalbos tą pačią dieną;
 - visada arba Laura, arba Ieva sprendžia uždavinius, bet nebūna taip, kad uždavinius spręstų abi kartu;
 - jei Laura sprendžia uždavinius, tai Justė mokosi anglų kalbos.

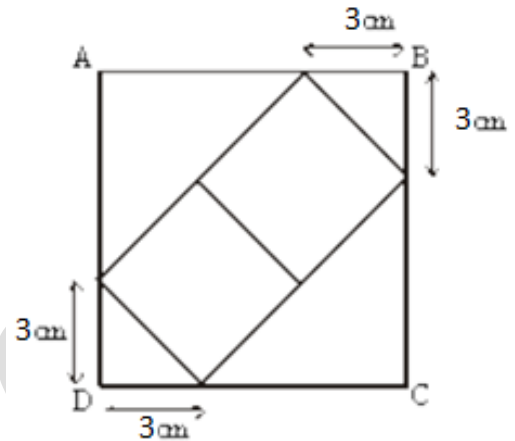
Kuri iš mergaičių vakar sprendė matematikos uždavinius, o šiandien mokėsi anglų kalbos?

- 2 t. 5. Devynios kortelės sunumeruotos nuo 1 iki 9 guli ant stalo. Simas, Goda, Nora ir Tomas pasiėmė po dvi korteles.
- Simas: „Mano kortelėse užrašytų skaičių suma lygi 6.“
 - Goda: „Mano kortelėse užrašytų skaičių skirtumas lygus 5.“
 - Nora: „Mano kortelėse užrašytų skaičių sandauga lygi 18.“
 - Tomas: „Mano kortelėse vienas iš užrašytų skaičių dvigubai didesnis už kitą.“

Su koku užrašytu skaičiumi kortelė liko gulėti ant stalo?

6. Atostogų metu Dominykas samprotavo taip:
- 2 t.
- trečdalį atostogų laiko buvau prie jūros;
 - kitą laiką praleidau futbolo stovykloje;
 - laikas praleistas futbolo stovykloje sudarė lygiai pusę visų atostogų.
- Kokia dalis atostogų dar liko Dominykui ?

7. Remdamiesi paveikslėlyje nurodyta informacija apskaičiuokite kvadrato ABCD plotą ?
- 2 t.



8. Kotryna, Pijus ir Adomas dalyvavo varžybose. Visi trys vaikai kartu surinko 2023 taškus. Pijus surinko 35 taškais mažiau nei Kotryna, bet 13 taškų daugiau nei Adomas. Kiek taškų surinko Kotryna?
- 2 t.

Pateik pilną sprendimą ir prašomus paaiškinimus

9. Septynis vakarus iš eilės Viltė žiūrėjo savo mėgstamą serialą „Meškus ir jo draugai“ – kiekvieną vakarą po seriją. Kiekvienos serijos trukmė – 45 minutės. Viltė pastebėjo, kad po kiekvienų 10 filmo minučių buvo rodomos reklamos, kurios trukdavo po 2 minutes. Kiek per šiuos septynis vakarus Viltė iš viso praleido laiko žiūrėdama reklamas?
- 2 t.
10. Jonas dirbdamas ledų fabrike prižiūri dvi mašinas, kurios gamina ledus. Pirmoji mašina per 4 minutes pagamina 1 dėžę ledų, o antroji per 8 minutes pagamina 3 dėžes ledų. Abi mašinos pradėjo ir baigė darbą tuo pačiu metu ir pagamino 100 dėžių ledų. Kiek dėžių ledų pagamino antroji mašina?
- 2 t.

11. Pavaizduotoje figūroje visi kampai yra statūs. Koks šios figūros perimetras ?
- 2 t.

